

Вариант № 8768430**1. Задание 1 № 86983**

Найдите значение выражения $(728^2 - 26^2) : 754$.

2. Задание 2 № 509687

Найдите значение выражения $7,9 \cdot 10^{-2} + 4,5 \cdot 10^{-1}$.

3. Задание 3 № 513810

В школе девочки составляют 60% числа всех учащихся. Сколько в этой школе всего учащихся, если девочек в ней на 105 человек больше, чем мальчиков?

4. Задание 4 № 506123

Найдите m из равенства $F = ma$, если $F = 84$ и $a = 12$.

5. Задание 5 № 506571

Найдите значение выражения $(2\sqrt{5} - 5) \cdot (2\sqrt{5} + 5)$.

6. Задание 6 № 26640

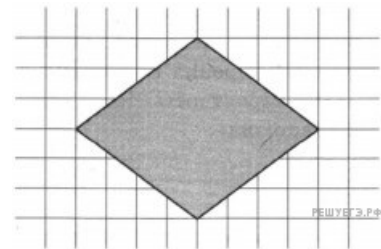
Павел Иванович купил американский автомобиль, спидометр которого показывает скорость в милях в час. Американская миля равна 1609 м. Какова скорость автомобиля в километрах в час, если спидометр показывает 65 миль в час? Ответ округлите до целого числа.

7. Задание 7 № 26646

Найдите корень уравнения $\log_2(4 - x) = 7$.

8. Задание 8 № 507527

План местности разбит на клетки. Каждая клетка обозначает квадрат $10 \text{ м} \times 10 \text{ м}$. Найдите площадь участка, изображённого на плане. Ответ дайте в м^2 .

**9. Задание 9 № 506309**

Установите соответствие между величинами и их возможными значениями:

ВЕЛИЧИНЫ	ВОЗМОЖНЫЕ ЗНАЧЕНИЯ
А) скорость движения автомобиля	1) 0,5 м/мин
Б) скорость движения пешехода	2) 60 км/час
В) скорость движения улитки	3) 330 м/сек
Г) скорость звука в воздушной среде	4) 4 км/час

Запишите в ответ цифры, расположив их в порядке, соответствующем буквам:

А	Б	В	Г

10. Задание 10 № 319355

Если гроссмейстер А. играет белыми, то он выигрывает у гроссмейстера Б. с вероятностью 0,52. Если А. играет черными, то А. выигрывает у Б. с вероятностью 0,3. Гроссмейстеры А. и Б. играют две партии, причем во второй партии меняют цвет фигур. Найдите вероятность того, что А. выиграет оба раза.

11. Задание 11 № 511964

В таблице показано расписание пригородных электропоездов по направлению Москва Ленинградская — Клин — Тверь.

Номер электрички	Москва Ленинградская	Клин	Тверь
1	17:31	19:04	
2	17:46	19:08	19:55
3	18:10	19:28	20:15
4	18:15	19:37	21:11
5	18:21	19:50	
6	19:14	20:55	
7	19:21	21:10	22:11

Владислав пришёл на станцию Москва Ленинградская в 18:20 и хочет уехать в Тверь на ближайшей электричке без пересадок. В ответе укажите номер этой электрички.

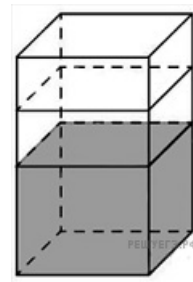
12. Задание 12 № 26682

От дома до дачи можно доехать на автобусе, на электричке или на маршрутном такси. В таблице показано время, которое нужно затратить на каждый участок пути. Какое наименьшее время потребуется на дорогу? Ответ дайте в часах.

	1	2	3
Автобусом	От дома до автобусной станции — 15 мин	Автобус в пути: 2 ч 15 мин.	От остановки автобуса до дачи пешком 5 мин.
Электричкой	От дома до станции железной дороги — 25 мин.	Электричка в пути: 1 ч 45 мин.	От станции до дачи пешком 20 мин.
Маршрутным такси	От дома до остановки маршрутного такси — 25 мин.	Маршрутное такси в дороге: 1 ч 35 мин.	От остановки маршрутного такси до дачи пешком 40 минут

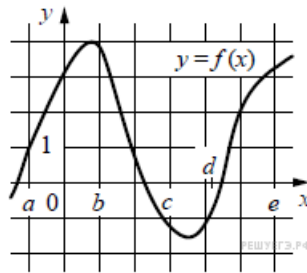
13. Задание 13 № 506456

В бак, имеющий форму правильной четырёхугольной призмы со стороной основания, равной 20 см, налита жидкость. Для того чтобы измерить объём детали сложной формы, её полностью погружают в эту жидкость. Найдите объём детали, если уровень жидкости в баке поднялся на 20 см. Ответ дайте в кубических сантиметрах.



14. Задание 14 № 509699

На рисунке изображён график функции $y = f(x)$. Точки a, b, c, d и e задают на оси Ox интервалы. Пользуясь графиком, поставьте в соответствие каждому интервалу характеристику функции или её производной.

ИНТЕРВАЛЫ
ВРЕМЕНИ

- А) $(a; b)$
 Б) $(b; c)$
 В) $(c; d)$
 Г) $(d; e)$

ХАРАКТЕРИСТИКИ

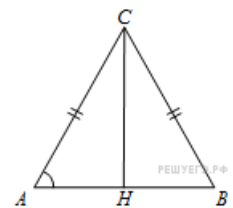
- 1) Значения функции положительны в каждой точке интервала.
- 2) Значения производной функции положительны в каждой точке интервала.
- 3) Значения функции отрицательны в каждой точке интервала.
- 4) Значения производной функции отрицательны в каждой точке интервала.

Запишите в ответ цифры, расположив их в порядке, соответствующем буквам:

А	Б	В	Г

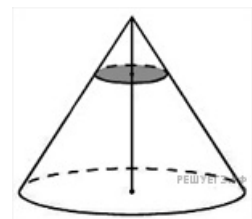
15. Задание 15 № 27289

В треугольнике ABC $AC = BC$, $AB = 8$, $\operatorname{tg} A = \frac{33}{4\sqrt{33}}$. Найдите AC .




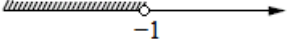
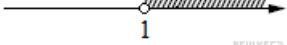

16. Задание 16 № 506662

Объём конуса равен 32. Через середину высоты конуса проведена плоскость, параллельная основанию. Найдите объём конуса, отсекаемого от данного конуса проведённой плоскостью.



17. Задание 17 № 506520

Каждому из четырёх неравенств в левом столбце соответствует одно из решений из правого столбца. Установите соответствие между неравенствами и множествами их решениями.

НЕРАВЕНСТВА	РЕШЕНИЯ
А) $\log_2 x > 0$	1) 
Б) $2^{-x} > 2$	2) 
В) $\frac{x}{x-1} < 0$	3) 
Г) $\frac{1}{x(x-1)} > 0$	4) 

Запишите в ответ цифры, расположив их в порядке, соответствующем буквам:

А	Б	В	Г

18. Задание 18 № 506262

В городе Z в 2013 году мальчиков родилось больше, чем девочек. Мальчиков чаще всего называли Андрей, а девочек — Мария. Выберите утверждения, которые следуют из приведённых данных.

Среди рождённых в 2013 году в городе Z:

- 1) девочек с именем Мария больше, чем с именем Светлана.
- 2) мальчиков с именем Николай больше, чем с именем Аристарх.
- 3) хотя бы одного из родившихся мальчиков назвали Андреем.
- 4) мальчиков с именем Андрей больше, чем девочек с именем Мария.

В ответе укажите номера выбранных утверждений без пробелов, запятых и других дополнительных символов.

19. Задание 19 № 507010

Приведите пример четырёхзначного натурального числа, кратного 4, сумма цифр которого равна их произведению. В ответе укажите ровно одно такое число.

20. Задание 20 № 511016

Прямоугольник разбит на четыре меньших прямоугольника двумя прямолинейными разрезами. Периметры трёх из них, начиная с левого верхнего и далее по часовой стрелке, равны 24, 28 и 16. Найдите периметр четвёртого прямоугольника.

24	28
?	16